

## TÜRKÇE

## MASAL OKUYALIM

Sevgili çocuklar, aşağıdaki masalı okuyup, noktalı yerlere masalın devamını yazar mısınız? Masalımıza isim koymanızı da istiyorum.

.....

Ayten, elinden düşürmediği bebeğiyle yol kenarında turistleri seyrediyordu. Yaşlı bir kadın, kızın önünde durdu, ilgiyle bebeğine baktı. Eliyle bebeği göstererek bir şeyler söyledi. Kız, yaşlı kadının bebeğini almak istediğini sandı. Sımsıkı sarıldı "Gülten Gelin" adını verdiği bebeğine.

Kadın, rehberini çağırdı. Ayten'in anlamadığı dilden bir şeyler anlattı. Rehber, başını salladı. Ayten'e döndü.

-Bayan, bebeği çok beğenmiş. Onu yakından görmek istiyor. Verir misin?

Ayten, yeniden bebeğine sarıldı.

-Yaa... O benim bebeğim.

Rehber, sesini alçalttı:

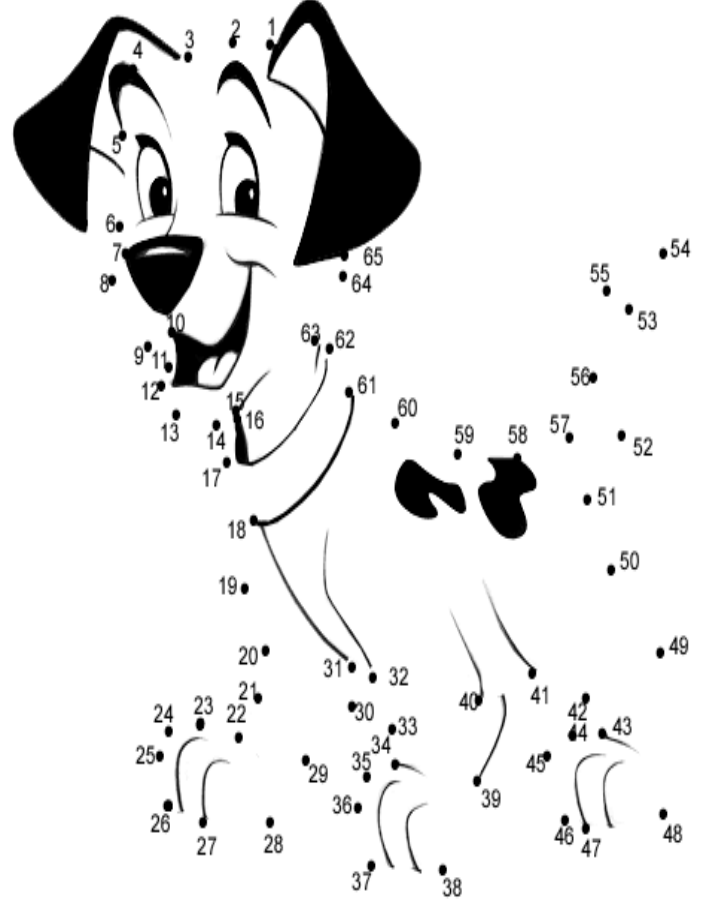
-Bak canım, bunlar bizim konuklarımız. Ayıp oluyor.

Bayan, bebeği inceleyip sana geri verecek. Elde yapıldığına inanmadı.

.....  
 .....  
 .....  
 .....  
 .....  
 .....  
 .....  
 .....  
 .....  
 .....  
 .....  
 .....  
 .....  
 .....  
 .....  
 .....  
 .....  
 .....  
 .....  
 .....  
 .....  
 .....  
 .....

## BOYAMA YAPALIM MI?

Aşağıdaki sevimli köpeği tamamlayıp, boyar mısınız?



## KARIŞMIŞ SÖZCÜKLER

Sevgili çocuklar, aşağıdaki sözcükler karışmıştır. Siz bu sözcükleri düzenleyip, birer tümce oluşturur musunuz? Tümcelerde uygun noktalama işaretlerini kullanınız.

\*Mine,teyzesini, dayısını, halasını çağırdı, mezuniyet, törenine

\*hasta, dedem, dün, oldu

\*okula, gönder, beni, baba

\*olacak, haftaya, yeni, havalarda, nasıl

\*severim, çok, havayı, yağmurlu

\*Eyhah, yanıyor, evler, mahalledeki, karşı

## METNE GÖRE SORULARI CEVAPLANDIRALIM

Ormanın ortasında şipşirin, küçük bir karaca dünyaya geldi. Biraz üşüdüğü için, annesi onu yalıyor, haziran güneşi de okşuyordu. Kendine gelmeye başlayan yavru karaca şimdiden ayağa kalkmaya çabalıyordu. İncecik bacakları üzerinde dikilen yavru karaca, gözleri yarı kapalı, annesinden süt emmeye çalışıyordu. Bundan dolayı çağlayanın şırlıtısını, yaprakların arasına gizlenmiş kuşların civıltısını duymuyordu ...

1) Karaca, nerede dünyaya gelmiş?

- A. evde B. ormanda C. hastanede

2) Gözleri yarı kapalı olan karaca nasıl besleniyordu?

- A. etle B. otla C. Sütle

3) Karacanın bacakları nasıldı?

- A. tombul B. iri C. incecik

4) Karaca nelerin seslerini duymadan süt emiyordu?

- A. Kuşların civıltısını ve çağlayanın şırlıtısı  
B. Maymunların sesleri  
C. Hayvanların sesleri

5) Yukarıdaki metnin başlığı, aşağıdakilerden hangisi olabilir?

- A) Kuşla Böcekler B) Küçük Karaca  
C) Ormandaki Hayvanlar

6) "Böceği, uğur, sevimlidir, çok." sözcüklerinden oluşmuş anlamlı cümle aşağıdakilerden hangisidir?

- A. Uğur böceği çok sevimlidir  
B. Uğur sevimlidir çok böceği  
C. Sevimlidir uğur çok böceği

7) " Bahar geldi. Çiçekler .....," cümlesinde noktalı yerlere aşağıdakilerden hangisi gelmelidir?

- A. soldu B. kurudu C. Açtı

## TÜRKÇE

A. Aşağıdaki tümcelerde yer alan adın yerine geçen kelimeleri bulalım ve farklı bir tümcede kullanalım.

- Ben her sabah bir bardak süt içerim.
- .....
- Annemi kimse ziyarete gelmedi.
- .....
- Sana kırmızı güller aldım.
- .....
- Herkes mutluluk ister.
- .....

- Bu , onun sürprizi mi?

- .....

B-) Aşağıdaki tümcelerde eşesli sözcükleri bularak sözcüğü diğer anlamı ile cümle içinde kullanalım.

- Akşama kaç ekmek istersiniz?

- .....

- Senin yüzünü kim çizdi böyle?

- .....

- Beyaz at çok güzel koşuyor.

- .....

- Tüm kalemleri yere saç.

- .....

C-) Kelimenin zıt anlamlısını bulup, bulduğunuz kelimeyi tümce içinde kullanınız.

- Bonkör.....

- .....

- Kibar.....

- .....

- Açmak .....

- .....

## MATEMATİK

### BİRAZ DA PROBLEM ÇÖZELİM

1. Benim 148 tane misketim var. Kardeşimin ise benimkinden 36 tane daha az misketi vardır. Benim ve kardeşimin toplam kaç misketi vardır?

2. Aşağıdaki sayıları en yakın oldukları sayıya yuvarlayınız.

123 =	247 =	65 =
879 =	251 =	309 =
56 =	431 =	994 =

3. 546 sayısındaki birler ve yüzler basamağındaki sayıların yerlerini değiştirirsek, ortaya çıkan sayı kaç olur?

4. Üç basamaklı en büyük ve en küçük çift sayının farkı kaç olur?

5. Aşağıdaki toplama işlemlerinin sonucu kaç olur?

$126 + 234 =$

$345 + 56 =$

$465 + 309 =$

$219 + 72 =$

$134 + 368 =$

$463 + 456 =$

$109 + 231 =$

$321 + 103 =$

6. Bir kenarı 9 m olan karenin çevresini 3 kez koşan kişi toplam kaç metre koşmuş olur?

7. Aşağıdaki çıkarma işlemlerini yapınız.

$234 - 127 =$

$560 - 241 =$

$290 - 127 =$

$762 - 126 =$

$279 - 169 =$

$560 - 359 =$

$109 - 56 =$

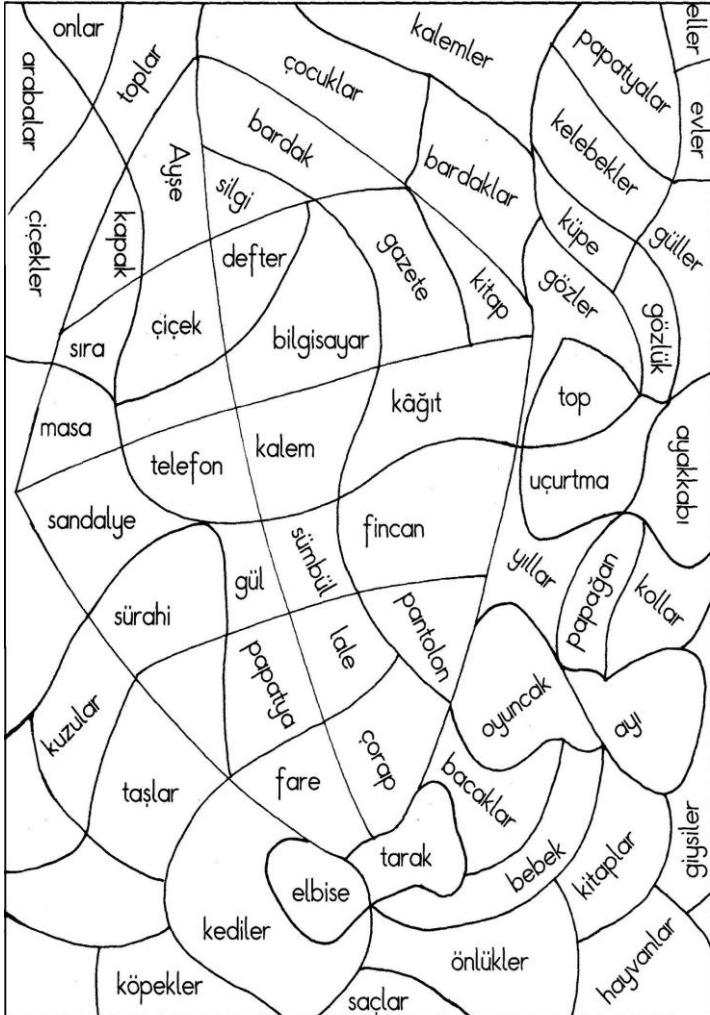
$235 - 170 =$

$891 - 198 =$

$678 - 459 =$

### TÜRKÇE

Şekilde tekil adların olduğu kısımları kırmızıya, çoğul adların olduğu kısımları maviye boyayınız.



• Boşluklara uygun noktalama işaretlerini yazınız.

"Nasrettin Hoca bir gün yolun kenarında kedisini yıkı-yormuş ( ) Yoldan geçen arkadaşı hocaya( ) ( )Hocam kediyi yıkama ölür( ) demiş( ) Hoca aldırış etmemiş ve yıkamış( )Arkadaşı dönüşte hocayı tekrar yolun kenarında görmüş( )Kedi ölmüştü( ) Adam( ) ( )Hocam ben size kediyi yıkamayın ölür demedim mi( ) demiş( ) Hoca( ) ( )Ben kediyi yıkarken ölmedi ki( )sıkarken öldü demiş..

### MATEMATİK

1. Aşağıdaki cümlelerin noktalı yerlerini doldurunuz. İki basamaklı doğal sayıların en büyüğü .....'dur. Üç basamaklı doğal sayıların en büyüğü .....'dur. 9 Onluk ve 1 onluk birleşince ..... yüzlük oluşur. 5 tane yüzlük ..... şeklinde yazılır. 4 yüzlük + 2 birlik + 8 onluk =..... şeklinde yazılır.

2. Aşağıdaki doğal sayıların okunuşlarını yanlarına yazınız

414 → ..... 250 → .....

333 → ..... 402 → .....

3. Aşağıdaki okunuşları verilen doğal sayıları rakamları ile yazınız.

İki yüz → ..... altı yüz on dört → .....

Üç yüz bir → ..... Yedi yüz dört → .....

4. Aşağıdaki sayı çiftleri karşılaştırınız. Noktalı yerlere ">, <, =, ≠" işaretlerinden uygun olanlarını yerleştiriniz.

21 .....44 123.....213 937.....100

304.....304 65 .....201 444.....333

525.....525 200.....200 953.....902

5. 

9	12	15		21	24
---	----	----	--	----	----

Yukarıdaki sayı dizisinde  yerine hangi sayı gelmelidir?

6. Sekizer ritmik sayarken 48' den sonra hangi sayı gelir ?

a) 40 b) 56 c) 49

7. Aşağıdaki Romen rakamlarına karşılık gelen sayıları yazınız.

VII → XIV → IV →

8. 

42		54				78
	48		60		72	

 Bu sayı dizisinde 

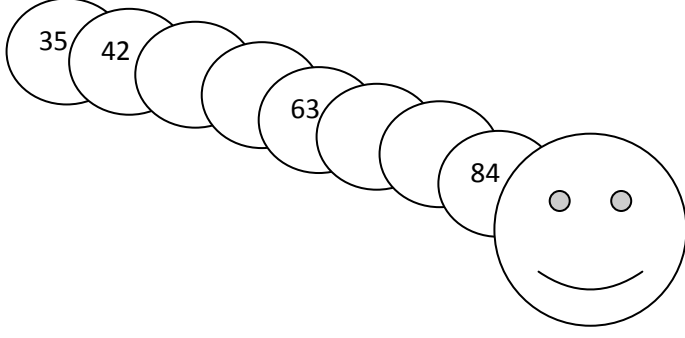
--

 yerine hangi sayı gelmelidir?

9. Aşağıdaki rakamlara karşılık gelen Romen rakamlarını yazınız.

5 → 7 → 20 → 15 →  
8 → 14 → 18 → 13 →

10. Aşağıdaki boşluklara gelebilecek doğal sayıları yazınız.



11) Aşağıdaki Romen rakamlarına karşılık gelen doğal sayıları yazınız.

X → VII → IV → XVI →

12) Aşağıdaki sayı çiftleri karşılaştırınız. Noktalı yerlere >, <, =, işaretlerinden uygun olanlarını yerleştiriniz.

534 ..... 543      1 00 ..... 1 01      758 ..... 767  
300 ..... 400      330 ..... 303      442 ..... 424

13) Yandaki rakamları kullanarak; (5, 7, 8)

- a) Üç basamak en büyük tek doğal sayıyı yazınız:.....
- b) Üç basamaklı en büyük çift doğal sayıyı yazınız:.....
- c) Üç basamaklı en küçük tek doğal sayıyı yazınız:.....
- d) Üç basamaklı en küçük çift doğal sayıyı yazınız:.....

14) Yandaki rakamları kullanarak; (6, 7, 4)

- a) 706' dan büyük en küçük doğal sayıyı yazınız:.....
- b) 607' den küçük en büyük doğal sayıyı yazınız:.....

15) 806 doğal sayısındaki;

- a) 8 rakamının basamak değeri kaçtır? .....
- b) 0 rakamının basamak değeri kaçtır?.....

16) Aşağıdaki işlemlere karşılık gelen doğal sayıları yanına yazınız.

- a) 8 onluk + 6 yüzlük + 0 birlik = .....
- b) 4 birlik + 2 onluk + 1 yüzlük = .....
- c) 7 yüzlük + 0 onluk + 5 birlik = .....

17) Aşağıdaki toplama işlemlerini yapınız.

4 8 8	5 0 5	4 0 .	. . .
+ 4 5 6	+ 5 9 6	+ 3 . 9	+ 2 6 8
		8 0 6	5 6 2



## HAYAT BİLGİSİ

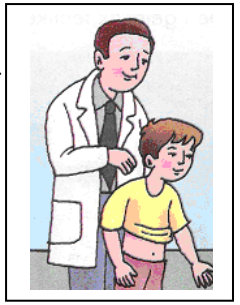
### MESLEKLER

İnsanlar yaşamlarını sürdürebilmek için birçok şeye gereksinim duyarlar. Bu gereksinimler sonucu meslekler

ortaya çıkmıştır. Öğretmenlik, doktorluk, çobanlık, mühendislik, gazetecilik, terzi, şoförlük, avukatlık fırıncılık mesleklerden bazılarıdır.

Bütün meslek grubundaki insanların birbirlerine ihtiyaçları vardır.

Örneğin; doktorlar olmasaydı hastaları tedavi ettiremezdik. Gazeteciler olmasaydı günlük olaylardan haberimiz olmazdı. Bu nedenlerden dolayı bütün mesleklere saygı duymalıyız.



↪ Aşağıdaki soruları cevaplandırınız. ↩

- ☆ Meslekler nasıl ortaya çıkmıştır?.....
- .....
- ☆ Meslekler olmasaydı neler olabilirdi? Örnek vererek açıklayınız.....
- .....
- ☆ Hangi meslek sahibi olmak istiyorsunuz? Olmak istediğiniz mesleğin gerektirdiği özellikleri biliyor musunuz?.....
- .....

Merhaba arkadaşlar, bugün size bir fıkra anlatacağım. Umarım beğenirsiniz.  
"KEKEME ŞAKASI"


Biri kekeme, iki dağcı varmış. Ağrı dağının tepesinde kamp kurmak üzere harekete geçmişler. Arabayı aşağıda bırakıp, eşyaları yüklenip çıkmışlar. Yarı yola geldiklerinde kekeme olan; "Ça, ça, ça" diye konuşmaya başlamış. Öteki, "Sen şimdi iki saat söyleyemezsin" diye lafını keserek, "Yukarı çıkalım, öyle söyle." Yukarı çıktıklarında kekeme; "Ça, ça, ça-dırları aşağıda unuttuk" demiş. Öteki; "Çabuk inip alalım". Kekeme; "Şa, şa, şa" derken, öteki kesmiş; "Zamanımız yok. Aşağıda söylersin." Aşağı inmişler. Kekeme; "Şa, şa, şaka yaptım." demiş.



## HAYAT BİLGİSİ

1. Kurtuluş Savaşı'nın yapılmasının nedeni aşağıdakilerden hangisidir?  
A) topraklarımızı genişletmek için  
B) padişahlarla savaşmak için  
C) düşmanları yurttan atmak için
2. Atatürk, Samsun'a ne zaman gitti?  
A) 19 Mayıs'ta B) 29 Mayıs'ta C) 30 Ağustos'ta
3. Cumhuriyet hangi tarihte ilan edildi?  
A. 19 Mayıs 1919'da B. 29 Ekim 1923'te  
C. 23 Nisan 1920'de
4. Atatürk'ün doğum yeri aşağıdakilerden hangisidir?  
A. Samsun B. Selanik C. İstanbul
5. Anıtkabir aşağıdaki illerden hangisinde yer alır?  
A. Ankara B. Çanakkale C. Samsun
6. Aşağıdakilerden hangisi Atatürk'ün kişisel özelliklerinden değildir?  
A. sabırsız olmak B. çalışkan olmak C. planlı olmak
7. Aşağıdaki noktalı yerlere verilen sözcüklerden uygun olanlarını yazarak tümceleri tamamlayınız.  
(Selanik'te, Atatürk'ün, milletini)  
➤ Atatürk, 1881 yılında, ..... doğdu.  
➤ Kurtuluş Savaşı'nı.....önderliğinde kazandık.  
➤ Atatürk, vatanını ve .....çok severdi.
8. Aşağıdaki tümcelerden(cümlelerden) doğru olanların önüne "D.", yanlış olanlarının önüne "Y." yazınız.  
( ) Cumhuriyet kurulmadan önce devletimizi başbakan yönetiyordu.  
( ) Atatürk'ün babasının adı Ali Rıza Efendi' dir.  
( ) Bayrağımız bağımsızlığımızın sembolüdür.  
( ) Cumhuriyet demek özgürlük demektir.  
( ) Atatürk, savaş yapmayı çok severdi.  
( ) Atatürk, Samsun'a 19 Mayıs 1919 da çıkmıştır.  
( ) Atatürk, Samsun' a Kurtuluş Savaşı'nı başlatmak için çıkmıştır.  
( ) Türk milleti Atatürk önderliğinde bir çok özgürlüğe kavuşmuştur.  
( ) Atatürk, güçlükler karşısında hemen pes ederdi.  
( ) Mustafa Kemal Atatürk' e, Atatürk soyadını matematik öğretmeni vermiştir.  
( ) Cumhuriyet ilan edildikten sonra, ülkemizin adı Türkiye Cumhuriyeti oldu.  
( ) İstiklal Marşını Atatürk yazmıştır.

## MATEMATİK



Simge her ay bilim çocuk dergisi almaktadır. Geçen ay dergiden 326 kart çıktı. Arkadaşı da geçen ay Simge'ye 16 kart verdi. Bu ayki dergiden ise 182 kart almıştır.

Halası da Simge'ye yanlılıkla bu ay ki dergiden bir tane daha alıyor.

1. Simge'nin toplam kaç kartı vardır?

2. Simge bana 123 kartını verse kaç kartı kalır?

3. Bir balıkçı pazartesi günü 68 kg balık tuttu. Salı günü pazartesi tuttuğu balığın 45 kg fazlasını tuttu. Çarşamba günü ise Salı günü tuttuğunun 23 kg fazlasını tuttu. Balıkçı üç günde kaç kilogram balık tutmuştur?



4. Mete 1 hafta 103 sayfa 2. hafta 179 sayfa kitap okudu. Mete iki haftada toplam kaç sayfa kitap okudu?

5. Ayşe hikaye kitabının 103. Sayfasından başlayarak 179. Sayfasına kadar okudu. Ayşe toplam kaç sayfa kitap okudu?

6. Bir toplama işleminde toplam 234'tür. Toplanan sayılardan biri 9 artırırsa toplam kaç olur?

$$7. ?? + 89 = 178$$

8. Hangi sayının 89 fazlası 178'dir?

9. Hasan 89 elma alınca 178 elması oluyor. Hasan'ın kaç elması vardı?

1 0.Aklımdan tuttuğum sayıya 89 eklediğim zaman 1 78 oluyor.Aklımdan tuttuğum sayı kaçtır?

1 1 .Bahçemize 89 ağaç diktiğimizde 1 78 ağacımız oluyor.Bahçemizde kaç ağaç vardı?

1 2.Bir toplama işleminde toplam 679,toplanan sayılardan biri 356 ise diğer sayı kaçtır?

1 3.Üç sayının toplamı 987'dir.Birinci sayı 1 03,ikinci sayı 75 ise üçüncü sayı kaçtır?

1 4.Bir toplama işleminde toplam 786'dır.Toplanan sayılardan birine 7 ekler,diğerinden 6 çıkarırsak toplam kaç olur?

1 5.Fatih 203 sayfa,kardeşi Fatih'ten 47 sayfa fazla okuyor.İkisi toplam kaç sayfa okumuştur?

1 6. İleri doğru 9'ar ritmik sayarak kutucuklara yaz.

9	18								99
---	----	--	--	--	--	--	--	--	----

1 7)1 0'dan başlayarak ileri doğru 9'ar ritmik say.

10	19						
				100			

1 8)72'den geriye doğru 9'ar ritmik sayınız.

72							
----	--	--	--	--	--	--	--

1 9)21'den başlayarak ileri doğru 7'şer ritmik sayınız.

21	28							84
----	----	--	--	--	--	--	--	----

20)35'den başlayarak ileri doğru 7'şer ritmik say.

35								91	
----	--	--	--	--	--	--	--	----	--

21)1 'den başlayarak 7'şer ritmik sayarak dairelerin içine yaz.

1	8								
---	---	--	--	--	--	--	--	--	--

22)1 0'dan başlayarak ileriye doğru 7'şer ritmik say.

10	17								87
----	----	--	--	--	--	--	--	--	----

23)70'den geriye doğru 7'şer ritmik say.

70									
----	--	--	--	--	--	--	--	--	--

24)Boş yerlere uygun olan sayıları yazınız.

		27		36				72	
--	--	----	--	----	--	--	--	----	--

25)Boş kalplere uygun gelebilecek sayıları yazınız.

		21		28					70
--	--	----	--	----	--	--	--	--	----

26)Boş kutucuklara uygun gelebilecek sayıları yazınız.

	32	40						96	
--	----	----	--	--	--	--	--	----	--

27)Boş kutucuklara uygun gelebilecek sayıları yazınız.

				69	66				
--	--	--	--	----	----	--	--	--	--

## TÜRKÇE

Aşağıdaki cümleleri okuyup doğru olanlara YEŞİLE yanlış olanları KIRMIZIYA boyayınız.

- Kitap okumak anlama ve anlatım yeteneğimizi geliştirir.
- Noktalama işaretleri okumaya anlam katar.
- Vurgu ve tonlama sesli okumada önemli değildir

## AŞAĞIDAKİ SORULARI CEVAPLAYINIZ.

1 - Abecemizin ikinci harfi ile başlayan hayvan adı aşağıdakilerden hangisidir?

- A) köpek B)balık C)inek

2- a- v- k - t- u harfleri ile oluşturabileceğimiz hayvan adı nedir?

- A)kelebek B)tavuk C)arı

## DESTEKLEYİCİ VE AÇIKLAYICI İFADELER

Düşüncelerimizin daha iyi anlaşılması için anlattığımız konuyu örnekler vererek açıklayabiliriz.

Yazılarımızda açıklayıcı ve destekleyici örnekler verirken *örneğin* , *örnek olarak* , *özellikle* , *gibi* , *açıkçası* , *açıklamak gerekirse*, *yani* , *başka bir deyişle* ifadelerini kullanırız.

Aşağıdaki noktalı yerlere *örneğin* , *örnek olarak* , *özellikle* , *gibi* , *açıkçası* , *açıklamak gerekirse*, *yani* , *başka bir deyişle* kelimelerinden uygun olanını yazınız.

\*Spor yapmak sağlığımız için şarttır. .... spor yaparsak daha sağlıklı oluruz.

\*Başarılı olmamız nasıl ders çalıştığımıza bağlıdır. ....  
ödevlerimizi dikkatli bir biçimde yapmamız, bilmediklerimizi sorarak öğrenmemiz başarımızı önemli ölçüde artırır.

\*Doktorluk , hemşirelik , hasta bakıcılık ..... meslekler yapan kişiler sağlık alanında çalışan kişilerdir.

\*Yiyecekleri satın alırken ..... son kullanma tarihlerine bakmalıyız.

\*Gelenekler toplumu bir araya getirir. ....  
asker uğurlama, düğün, kına gecesi verilebilir.

\*Ona kızgıyım ..... onunla bir daha konuşmak istemiyorum.

\*Yaz mevsimini ..... haziran, temmuz ve ağustos aylarını yazlığımızda geçiririz.

### AŞAĞIDAKİ CÜMLELERİ DESTEKLEYİCİ VE AÇIKLAYICI İFADELERLE TAMAMLAYINIZ.

Yaya olarak trafik kurallarına dikkat etmeliyiz. *Örneğin*

.....

.....

Toplu taşıma araçlarında dikkat etmemiz gereken kurallar vardır. *Örnek olarak*.....

.....

Pastayı severim. Özellikle.....

.....

Her çocuğun büyümesi için uyuması gereklidir. Yani.....

.....



**Bir de fıkrâ :** Öğrenci sınıfa yeni gelmişti. İkinci günü öğretmenine sordu: - "Öğretmenim, insana yapmadığı bir şey için ceza verir misiniz?" - "Olur mu evladım?", dedi öğretmen. "Yapmadıysa ceza da olmaz. Niye sordun bunu?" - "Efendim dün verdiğiniz ev ödevini yapmamıştım da ceza verirsiniz sanıyordum.."

## HAYAT BİLGİSİ

A) Aşağıdaki cümlelerden doğru olanların başına D, yanlış olanların başına Y yazınız.

( ) Eğer yolda araç yoksa kırmızı ışıkta durmamıza gerek yoktur.

( ) Alışveriş ederken önce isteklerimizi almalıyız.

( ) Güneş batıdan doğar, doğudan batar.

( ) Karıncalar toprağı yuvalarının güneyine yğarlar.

( ) Kroki; Bir yerin kuşbakışı görünüşünün küçültülerek çizilmesidir.

B. Aşağıdaki boşlukları verilen sözcükleri kullanarak uygun şekilde tamamlayınız.

şiddete - okul - trafik polisi - vatandaşlık - okul geçidi

a) Karşıdan karşıya geçerken .....ni kullanırım.

b) Trafığın yoğun olduğu yerlerde ..... görev yapar.

c) Sorunlarımızı ..... başvurmadan çözebilmeliyiz.

ç) Sınıflar temiz olursa ..... da temiz olur.

d) Çevreyi korumak ..... görevidir.

C. Aşağıdaki sorularda uygun olan seçenekleri işaretleyiniz.

1- Okuldaki bir acil durumda ilk önce kime haber verilir?

A)Nöbetçi öğretmene

B)Sınıf başkanına

C)okul müdürüne

2. Yönerge ile bilgiye nasıl ulaşılır?

A) hemen B)adım adım takip edilerek

C)çok geç

3- Oyunu kaybettiğimiz zaman ne yapmalıyız?

A)Taşkınlık yapmamalıyız. B)Ağlarız. C)Kavga ederiz.

4) Okul ve sınıf eşyalarını nasıl kullanmalıyız?

A) Dikkatli ve özenli kullanmalıyız.

B) Üzerine adımızı kazımalıyız.

C) Nasıl kullanıldığı bizi ilgilendirmez.

5) Basit bir yaraya ne yapılır?

A) ameliyat

B) pansuman

C) dikiş

6) Satıcının geri almadığı bozuk mal için hangi kuruluşa başvurmalıyız?

A)TEMA' ya B)Kızılay'a C)Tüketiciyi Koruma Derneği'ne

7) Arkadaş seçerken hangisi aranmaz?

A)Dürüstlük B )güzel giyinmesi

C)yardımseverlik

8)Berna, çantasını düzenlemek istiyor. Sizce ne yapması gerekir?

A) Ders programına bakmalı

B) Ödevlerine göre hazırlamalı

C) Bir büyüğüne sorarak hazırlamalı

## İLETİŞİM TÜRLERİ

A)Aşağıdaki iletişim araçlarının isimlerini yazınız.



B)Görsel iletişim araçlarına 5 tane örnek veriniz.

I-	II-	III-	IV-	V-
----	-----	------	-----	----

C)İşitsel iletişim araçlarına 3 tane örnek veriniz.

I	II	III
---	----	-----

Ç)Hem işitsel hem de görsel iletişim araçlarına 3 tane örnek veriniz.

I	II	III
---	----	-----

### SORULAR

1)Aşağıdakilerden hangisi sadece görsel iletişim aracıdır?

A)televizyon B)bilgisayar C)gazete

2)Aşağıdakilerden hangisi sadece işitsel iletişim aracıdır?

A) radyo B)bilgisayar C)gazete

3) Aşağıdakilerden hangisi hem görsel hem de işitsel iletişim aracıdır?

A)radyo B)bilgisayar C)gazete

4)Aşağıdaki iletişim araçlarından hangisi sınıfımızda bulunmamaktadır?

A)bilgisayar B)telefon C)projeksiyon

5) Yandaki iletişim aracının adı hangisidir?



A)tarayıcı B)faks C)projeksiyon

### TÜRKÇE

BİLGİ:Kış gelmeden yaban kazları, leylekler, turnalar daha sıcak olan güneydeki ülkelere göç ederler. Serçeler ise çatıların kuytu köşelerine sığınır, oralara yuva yaparak kışı bizlerle geçirirler.

Küçük serçe en yakın arkadaşı leyleğin gidecek olmasına çok üzülüyordu.Ögidince kendisini çok yalnız hissedeceğine emindi.Leylek ve yavruları sonbaharın gelmesiyle birlikte daha sıcak olan güneydeki ülkelere göç edecekti.Serçe ise bu çatının kuytu köşesine yaptığı yuvada yavrularıyla birlikte kalacaktı.Kışın evin bacasının yakınına yaptığı yuvada geçirecekti.Soğuk günlerde bacadan gelen ısı ile onun evi de ısınacaktı.Böylece üşümeyeceklerdi .Kış sona erip ilkbahar gelince sevgili dostu leylek yeniden buraya dönecekti.Çünkü leylekler her zaman aynı yere yuvalarını yaparlardı.Yeniden çalı çırpıdan oluşan yuvasını bu bacaya yapacaktı.Bu düşünce ile içini rahatlatmaya çalıştı.



1 -Küçük serçe neden üzülüyormuş?

\*.....

2-Leylek ile yavruları nereye gidecekmiş?

\*.....

3-Kuş yuvasını nereye yapmış?

\*.....

4-Kuşun yuvasını oraya yapmasının sebebi neymiş?

\*.....

5-İlkbahar gelince leylek nereye gelecekmiş?

\*.....

6-Leyleğin yuvası nelerden yapılmış?

\*.....

7-Serçenin içini rahatlatan düşünce nedir?

\*.....

kadar

farklı

daha

gibi

aynı

aynısı

Eksik kalan cümleleri uygun sözcüklerle karşılaştırarak karşılaştırma cümleleri oluşturunuz.

•Efe benden ..... iyi şiir okur.

•Kübra,Kemal'den ..... hızlı koşar.

•Hayrunnisa benim .....kitap okumaz.

•Boya kaleminin ..... bende de var.

•Kardelen ile Veysel ..... sınıfa gidiyorlar.

•Geçen Pazar günü ..... soğuk bir hava vardı.

•Benim ..... giyinmiş.



## MATEMATİK ÇEVRE PROBLEMLERİ

1. Bir kenarı 7 cm olan karenin çevresi kaç cm'dir?
2. Bir kenarı 9 cm olan karenin çevresi kaç cm'dir?
3. Çevresi 16 cm olan karenin bir kenarı kaç cm'dir?
4. Çevresi 24 cm olan karenin bir kenarı kaç cm'dir?
5. Kısa kenarı 6 cm , uzun kenarı 10 cm olan dikdörtgenin çevresi kaç cm'dir?
6. Uzun kenarı 12 cm , kısa kenarı 5 cm olan dikdörtgenin çevresi kaç cm'dir?
7. Çevresi 20 cm olan dikdörtgenin , kısa kenarı 4 cm ise uzun kenarı kaç cm'dir?
8. Çevresi 32 cm olan dikdörtgenin , uzun kenarı 12 cm ise kısa kenarı kaç cm'dir?
9. Kenarları 3 cm , 8 cm , 5 cm olan üçgenin çevresi kaç cm'dir?
10. Bir kenarı 10 cm olan karenin çevresi , 3 sıra tel ile çevrilirse kaç sıra tel gerekir?
11. Bir kenarı 25 m olan kare şeklindeki bir bahçenin çevresine 4 sıra tel çekilirse kaç m tel gerekir?
12. Bir kenarı 8 cm olan kare ile bir kenarı 10 cm olan karenin çevre uzunluğu farkı kaç cm'dir?
13. Bir kenarı 6 cm olan karenin çevresi ile kısa kenarı 4 cm , uzun kenarı 6 cm olan dikdörtgenin çevresi arasında kaç cm fark vardır?

## TÜRKÇE

### VARLIKLARIN ÖZELLİKLERİNİ BELİRTEN SÖZCÜKLER

Varlıkların durumlarını, biçimlerini, sayılarını, renklerini belirten sözcüklere sıfat(ön ad) denir.

Sarı-sıcak-sevimsiz-küçük-güzel-birinci-bu-sade-yırtık-eski

Yukarıdaki sözcükler varlıkların özelliklerini belirten sözcüklerdir. Bu sözcükleri tabloda uygun olan isimlerle tamamlayın.

..... ışık	..... oda	..... insan	.....kablo	.....araba
....ayakkabı	....Şirinler	.....havlu	.....bisiklet	.....hava
.....çamaşır	.....çorba	....elbise	..... balık	.... kahve

Tabloda varlıklara , varlıkların özelliklerini belirten sözcükler eklemiştiniz. Şimdi o sözcük gruplarını birer cümlede kullanın. Ama sıfatın ve ismin altını çizip belirtin.

ÖRNEK :

Sarı ışık : Araba sarı ışıkta geçti. → Sarı varlığın rengini belirtiyor. Işık ise isimdir.

..... oda:

..... insan:

..... araba:

..... ayakkabı:

..... havlu:

..... bisiklet:

..... hava:

..... çamaşır:

..... çorba:

..... elbise:

..... balık:

..... kahve:

Aşağıdaki cümlelerde varlıkların özelliklerini belirten sözcükleri bulup hangi özelliği belirttiğini de yazın.

Ben güleryüzlü insanları seviyorum.

"güleryüzlü" sözcüğü varlığın durumunu belirtiyor.

Atlar , uzun yollarda koşup durdular.

Gazetemizin ikinci sayısı yakında çıkıyor.

Evimizdeki çiçekli masa örtüsü yırtıldı.

Pinokyo, uzun burnu ile tanıdığımız bir kahramandır.

Bugün iki kalemimi birden kaybettim.

Taze simitleri yiyerek karnımızı doyurduk.

Öğretmenlerle yuvarlak masanın etrafında konuştuk.

Eylem bankadan bin lira çekti.

Okula giderken soğuk havada üşüdüm.

## MATEMATİK

### ÇARPMA PROBLEMLERİ

1) 4 katlı bir lisenin her katında 7'şer sınıf ve her sınıfta 20 sıra olduğuna göre bu lisede kaç sıra vardır?

2) Bir yumurta kolisinde 30 yumurta vardır. Yumurtacı günde 25 koli yumurta sattığına göre 1 haftada kaç yumurta satar?

3) Bir bezelye bahçesinde 50 bezelye bitkisi, her bitkide 25 bezelye ve her bezelyeden 10 bezelye tanesi çıkarsa toplam kaç bezelye tanesi elde edilir?

4) Sabah 3 çanta, öğlen 4 çanta zarf dağıtan bir postacı, çantasında her seferinde 17 zarf taşıyor. Bu postacı günde kaç zarf dağıtır?

5) Bir manav içinde 5 tane limon olan filelerinden 23 tane, içinde 10 tane olan limon filelerinden ise 16 tane aldı. Bu manav toplam kaç limon almıştır?

6) Kumbaramdan 8 tane 25 kuruş ve 14 tane 50 kuruş ve 10 tane de 1 lira çıktı. Kumbaramda birikmiş olan param kaç liradır?

7) Bir araç parkında 60 araç vardır. Bu araçlardan 37 tanesi otomobildir. Geriye kalanlar 6 tekerlekli otobüstür. Bu parktaki araçların toplam tekerlek sayısı kaçtır?

8) Aynı anda yola çıkan ve aynı yola giden iki arabadan biri 70 km hızla diğeri 90 km hızla gitmektedir. 4 saat sonra aralarındaki mesafe kaç km açılır?

9) Aslı dakikada 120 kelime, Büşra 70 kelime okuyor. Aslı ile Büşra aynı anda okumaya başladıklarında 6 dakika sonra Aslı kaç kelime fazla okumuş olur?

10) Küçük sepette 34 ceviz var. Büyük sepette ise küçük sepettekinin 3 katının 5 eksiği kadar ceviz var. İki sepette toplam kaç ceviz vardır?

## MATEMATİK AĞIRLIKLARI ÖLÇELİM


2 kg=.....g	4000 g=.....kg
5 kg=.....g	5000 g=.....kg
9 kg=.....g	9000 g=.....kg
3 kg=.....g	6000 g=.....kg
7 kg=.....g	8000 g=.....kg

Aşağıda verilen ifadelerin doğru olanların başına (D), yanlış olanların başına(Y) harfi koyunuz.

- (...)Arkadaşımın ağırlığını kilogram olarak ölçeriz.
- (...)Tebeşirin ağırlığını kilogram olarak ölçeriz.
- (...)Cep telefonunun ağırlığını gram olarak ölçeriz.
- (...)Okul çantamın ağırlığını kilogram olarak ölçeriz.
- (...)Boya kalemlerimin ağırlığını kilogram olarak ölçeriz.

### Öğrendiklerimizi Uygulayalım


1)Aşağıdaki varlıklardan hangisini kilogram ile ölçeriz?



2)Aşağıda verilenlerden hangisinin ağırlığı diğerlerinden fazladır?

- A)2 kg kiraz B)2000 g elma C)2 kg 500 g armut

3. Aşağıda verilen varlıklardan hangisi kg ile ölçülmez?



4) 4. 5 kg + .....kg = 9000 g

Yukarıdaki eşitliğe göre noktalı yere hangisi gelmelidir?

- A) 4 g B) 4 kg C) 4000 g

5- Aşağıda verilen eşitliklerden hangisi yanlıştır?

- A) 4 kg + 3 kg = 7 000 g  
B) 6 kg + 3000 g = 9 000 g  
C) 8 kg + 1 kg = 9 g

6-175 g Hindistan cevizinin 1 kg olması için üzerine kaç gram daha eklenmelidir?

- A) 1175 g B) 825 g C) 925 g

7-4 tane 250 g ile 4 tane 500 g kaç kg eder ?

- A) 2 kg B) 3 kg C) 4 kg

8- Babam eve 4 kg elma, 3 000 g portakal aldı.

Babam ne kadar meyve almıştır?


- A) 5 kg B) 7 000 g C) 7 kg

9- Günde 100 g meyve yiyen bir çocuk yarım kg meyveyi kaç günde yer ?

- A)5 B)7 C)10


## HAYAT BİLGİSİ

1)Aşağıdaki çocuklardan hangisinin fiziksel özelliği belirtilmiştir?



A)

Yaramaz ve kavgacıdır.



B)

Sınıfın en kısa öğrencisidir.

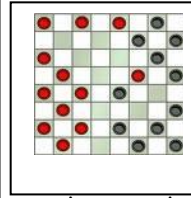
C)



Balık tutmayı çok sever.

2)Tereyağı hangi besin grubuna girer?

- A)Bitkisel besin  
B)Hayvansal besin  
C)Madensel besin



Efe ile Aydın dama oyunu oynamaktadır.

3- Oyun sonunda Efe kazanmıştır. Aydın ise üzgündür.Efe ' nin Aydın ' a söylemesi

gereken sözler hangisi olmalıdır ?

- a ) Bilmiyorsan bu oyunu oynam  
b ) Üzülme bir dahaki oyunda sen yenersin  
c ) Ben, işte böyle yenerim seni

4- Aşağıdaki ürünlerden hangisinin TSE damgası olması gerekir ?

- a ) Karpuz b ) Saat c ) Tavuk

5- Dayanıklı tüketim malı alan bir insan aşağıdakilerden hangisine bakmaz ?

- A)Kullanım kılavuzu B)Son kullanım tarihi  
C) Garanti belgesi



1)Benim adım Rabia.2)Üçüncü sınıfta okuyorum.3)Öğretmenimi ve arkadaşlarımı çok seviyorum.

Rabia hangi cümlede duygularını anlatmıştır?

- A)1 B)2 C)3

7- İlköğretim Haftası 'nda öncelikle üzerinde durulması gereken konu hangisidir ?

- A ) Cumhuriyeti kutlamak  
B ) Eğitimin ve okulun önemi  
C ) Atatürk' ün hayatını öğrenmek

8-Aşağıdakilerden hangisine saygılı olmamız gerekmez?

- A) Farklı özellikteki insanlara
- B) Etik olmayan davranışlara
- C) Farklı fikir ve Düşüncelere

9- Aşırı ve gereksiz harcamalardan kaçınmak ne anlama gelir ?

- a)cimri olmak b)tutumlu olmak c)paramızın olmaması

10- Aşağıdakilerden hangisi özel günlerden değildir ?

- a)Evlilik yıldönümleri b)Ayın ilk günleri c)Doğum günleri

11 - Aşağıdakilerin hangisinde ilkyardım uygulanmaz ?

- a)bayılma B)yaralanma C)diş ağrısı

12)Bilinçli bir tüketici aşağıdakilerden hangisinden etkilenmez?

- A)Reklam B)Kalite C)Fiyat

13) Aşağıdakilerden hangisi daha kalıcı bir öğrenme şeklidir ?

- A)okuyarak, dinleyerek öğrenme
- B)yaparak, uygulayarak öğrenme
- C)izleyerek öğrenme

14) İlker sabah kahvaltısı yapmak istiyor. Aşağıdakilerden hangisi yemesi sağlık açısından en uygundur ?



A)



B)



C)

15) Yanda görülen Mehmet okulda oyun oynarken düştü ve dizi yaralandı. Bu durumda arkadaşları öncelikli olarak ne yapmalılar ?



- A)Ambulans çağırılmalı
- B)Öğretmenlerine haber vermeliler
- C)Koşup hemen annesini çağırılmalı

16- Aşağıdakilerden hangisi sağlığınıza zarar vermez ?

- A) Açıkta satılan yiyecekleri yemek
- B) Evde annemizin pişirdiği yemekleri yemek
- C) Son kullanma tarihleri geçmiş gıdaları yemek

17- Parasını akıllı kullanan kimselere ne denir?

- A) Bilinçli tüketici B) Bütçe C) Profesör

18- I-Sınıflar süslenir II-Temiz giysiler giyilir III-Arka-  
daşlarla komşulardan şeker toplarız IV- Akrabalarımı  
ziyarete gideriz V- Şiirler okur, şarkılar söyleriz  
\*Yukarıdakilerden hangilerini Dini bayramlarımızda  
yaparız ?

- A) I - II- V B) II - III - IV C) II- IV- V

19)



Evimize hırsız girmiş!

Bu durumda aşağıdaki telefonlardan hangisini aramalıyız?

A)1 55

B)1 1 2

C)1 1 0

20) Aşağıdaki çocukların vücut ve yüz ifadelerine bakarak hangi çocuk farklı bir duyguya sahiptir?



A)



B)



C)

21 - Taşıtlarla yolculuk sırasında uyulması gereken kurallar vardır. Buna göre aşağıdakilerden hangisi doğru değildir ?

- A)Otobüste yaşlı, hamilelere yer vermemek
- B)Taşıtlara ön kapıdan sırayla binip arka kapıdan inmek
- C)Taşıtlarda yüksek sesle konuşmamak, kabuklu yemiş yememek

22- Derslerimizde başarılı olmak için öncelikle ne yapmalıyız?

- A) Erken yatıp erken kalkmalıyız.
- B) Dengeli ve düzenli beslenmeliyiz.
- C) Planlı ve düzenli çalışmalıyız

## TÜRKÇE

### GEZMEYİ SEVEN AĞAÇ

Yemyeşil bir bahçede yaşayan bir ağaç varmış. Bu ağaç, yaramaz bir çocuk gibiymiş. İçi içine sığmazmış. O da çocuklar gibi koşup oynamak istermiş. Çevresindeki evleri çok merak edermiş.Fakat o da diğer ağaçlar gibi büyüme zorundaymış.

Zavallı araç! Günlerini, aylarını hep aynı yerde kımıldamadan geçirmek zorundaymış.

Bir gün tatlı bir sonbahar rüzgarı esmiş. Ağaca, "Neden böyle üzgünsün?," diye sormuş.

"Nasil üzülmeiyim .. demiş ağaç."Dünyadaki bütün canlılar yürüyor, koşuyor, yüzüyor, uçuyor.Ya ben ? Oysa dünyaya dolaşmak, yeni şeyler öğrenmek isterdim..

"Üzülme!," demiş rüzgar. Yaprığından birini bana ver..Ağaç, bir yaprağını rüzgara vermiş . Rüzgar püfff diye esmiş.Yaprak evlerden birinin penceresinden içeri girmiş.

1 -Ağaç nerede yaşıyormuş?

2- Ağaç niçin üzgünmüş?

3- Sonbahar rüzgarı ağaca ne sormuş?

4-Rüzgar ağacın üzüntüsünü gidermek için ne yapmış?

5-Yandaki kelimeleri sözlük sırasına göre yazınız.  
akraba-Ahmet-ayakkabı-alkış-sade-şeker

6-Aşağıdaki tümceler okların karşısındaki sözcüklerle devam ederse abartı mı,gerçek mi ya da hayal ürünü mü olur?Karşısına yazın.

Bizim kedi  $\left\{ \begin{array}{l} \text{benimle konuşuyor.....} \\ \text{her gün süt içer.....} \\ \text{Köpekten de güçlüdür.....} \end{array} \right.$

7- Aşağıdaki söz öbeklerini tamamlayıp farklı düşünmeye yöneltecek tümceler oluşturun.

-Aniden bir yağmur başladı oysa .....

-Erken kalk yoksa.....

-Sinemaya gidecektik fakat .....

-Çok çalıştım ama.....

8-Boşlukları uygun karşılaştırma sözcükleri ile tamamlayın.

daha	gibi	benzeri
------	------	---------

Çınar'ın elbiseleri birbirine .....dikilmiş.

Çınar'ın gözleri babasının gözleri.....parlıyor.

Çınar'ın saçları ,babasından.....dik duruyor.

9-Aşağıdaki tümcelerde neden-sonuç bildiren kelimelerin altını çiziniz.

Aysun öksürmeye başladı çünkü terliyken soğuk su içti.

Uğur cılız kaldı;bunun nedeni iyi beslenmediğindedir.

Irmak yorulmuş; bunun sonucunda erken uyudu.

10- 5N-1 K sorularının cevaplarını verilen cümleden yararlanarak yazınız.

"Ablam dün çok hasta olduğu için okula gidemedi."

\*Kim?: \*Nereye?:

\*Ne zaman?: \*Niçin?:

### MATEMATİK

1) 
$$\begin{array}{r} 3 \text{ } \text{🍓} \text{ } \text{🍊} \\ + \text{ } \text{🍏} \text{ } 4 \text{ } 7 \\ \hline 6 \text{ } 0 \text{ } 1 \end{array}$$
 Yandaki toplama işlemine göre  $\text{🍓} + \text{🍊} + \text{🍏} = ?$

2)

III + IV	8
XV - VII	30
VI x V	7
VIII + XVIII	26
XIII + IX	22

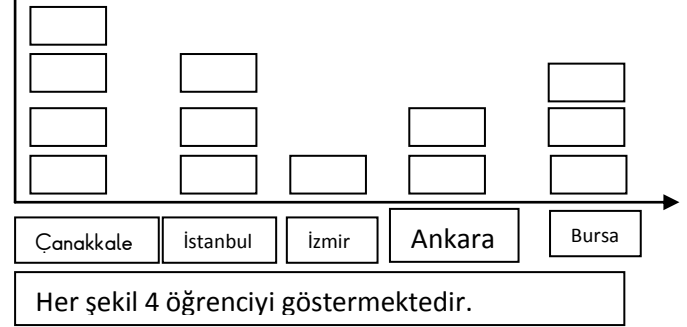


Yandaki tabloda Romen rakamlarıyla verilen işlemleri sonuçlarıyla eşleştiriniz.

3. Aşağıdaki sayıları büyükten küçüğe doğru sembol kullanarak yazınız.

210 -101 -809 -915 -999	
587 -197 -256 -440 -250	
546 -958 -405 -206 -958	

4)Sınıfımızdaki öğrencilerin yapılacak gezi ile ilgili tercihleri grafikte verilmiştir. Siz de bu tabloya bakarak sıklık ve çetele tablosu oluşturunuz.(HER ŞEKİL 4 ÖĞRENCİYİ GÖSTERİR.)



### TÜRKÇE TÜREMİŞ SÖZCÜKLER

Aşağıdaki sözcüklerin sonuna :- ci (cı, cu, cü, çı, çu, çü )  
- lik (lık, luk, lük) - li ( lı, lu,lü) -siz( sız, suz, süz)  
eklerinden uygun olanlarından getiriniz, yeni sözcükler türeterek karşlarına yazınız.

Örnek: Göz: ...gözcü.. , ...gözlük..., ...gözlüksüz..

Dağ: ..... Cilt: .....

Taş: ..... Duygu: .....

Koku: ..... Şeker: .....

Çanta: ..... Çocuk: .....

Su: ..... Renk: .....

Hava: .....Akıl: .....

Beş sözcük de siz seçerek sonlarına ek getirerek yeni kelimeler türetiniz.

1. ....
2. ....
3. ....
4. ....
5. ....

## TÜREMİŞ SÖZCÜKLER

Aşağıdaki tümcelerin sonunda parantez içindeki sözcüklerin sonuna tablodaki eklerden uygun olanını getirerek boşlukları doldurunuz.

-siz	-li	-lik	-ce	-me	-iş	-gi
------	-----	------	-----	-----	-----	-----

Yangın tatbikatını .....bir şekilde izledik. (heyecan)

Öğretmenim bu konuda ..... bildirmedim. (gör)

.....onun hakkıydı. (birinci)

Karşıdan karşıya geçerken çok .....olunuz. (dikkat)

Parasını .....cüzdanına yerleştirdi.(güzel)

Reçel ..... işini çok iyi bilir. (yap)

Deprem ile ilgili ..... verdi.(bil)

..... başın cezasını ayaklar çeker.(akıl)

Bu akşam ödevlerini .....geciktirince uykusuz kaldı.(iyi)

Kardeşim okuma ve .....öğrenmeye başladı.(yaz)

Bu bilgisayarda bir .....oluştum.(bozuk)

Uzun zamandır kapalı olan evde eşyalar çok.....ydu.(toz)

**Aşağıdaki sözcüklerin sonuna -lık eki getirerek sözcükler türetiniz.**

Tuz:..... Sarı: ..... Yol: .....

Genç: ..... Temiz: ..... Kitap:.....

Şeker:.....Sağ: ..... Kötü: .....

**Aşağıdaki sözcüklerin sonuna -siz eki getirerek sözcükler türetiniz.**

Okul:..... Acıma:..... Çare:.....

Kural:..... Elektrik:..... Kol:.....

Bakım:..... Sevgi : ..... Gözlük:.....

## TAVŞAN İLE KAPLUMBAĞA

Tavşan ikide bir böbürleniyor:

-Kimse benden hızlı koşamaz, diyormuş. Sonunda

kaplumbağa dayanamamış:

-İstersen yarışalım, demiş.

Koşuya başlamışlar. Tavşan epeyce yol aldıktan sonra,

"Hih, o sırtı kabuklu hayvancık sürüne sürüne kim bilir ne zaman sonra bana yetişir?" diye düşünmüş.

-Şu ağacın altına biraz uzanıp dinleneyim, demiş.

Uyuyakalmış.

Kaplumbağa ağır yürüyüşü ile yürümüş yürümüş, hiç dinlenmeden yol almış.

Tavşan bir ara gözünü açmış. Bir de ne görse beğenirsiniz, kaplumbağa neredeyse yarışı bitirmek üzereymiş. Hemen fırlamış, rüzgar gibi koşmaya başlamış. Ama ne çare, kaplumbağaya yetişememiş. Böylece tavşan yarışı kaybetmiş. Aldırış etmemenin cezasını çekmiş. Kaplumbağa ise düzgün adımlarla, durmadan yürüdüğü için yarışı kazanmış.

Aşağıdaki soruları yukarıdaki fabla göre cevaplayınız.

1)Sen bu fablda kimin yerinde olmak isterdin? Neden?

.....

2.Bu fablda kimi beğenmedin? Neden?

.....

3.Sen bu fablı yazsaydın sonunu nasıl bitirirdin? Neden?

.....

4.Fabl ne demektir?

.....

5.Yukarıdaki fablda iki heceli kelimeleri bulup yazar mısınız?

.....

## ÇORBA

Küçük çocuk, sofraya henüz oturmuştu ki,"Bu çorbanın tuzu fazla olmuş, ben bunu yemem" diyerek, kaşığı bıraktı. Annesi, hiç üstüne varmayıp; " Peki yavrum." dedi. "Akşama sana daha iyisin, hazırlarım."

Biraz sonra annesi, bahçede ekili olan patatesleri çıkarmaya başladı. Gün batıncaya kadar annesine yardım ederek yorulan çocuk, önüne konulan çorbadan bir kaşık alır almaz; "Oooo, bu çorba gerçekten çok güzel olmuş. Mis gibi de kokuyor." diyerek iştahla büyük bir tabağı hemen bitirdi. Annesi gülerек:

-Sevgili yavrum, dedi. Yediğin, sabah senin beğenmediğin çorbadır. Ama şimdi çok hoşuna gitti. Çünkü bütün gün akşama kadar gayretle çalıştın.

Sevgili çocuklar, aşağıdaki soruları yukarıdaki metne göre cevaplayınız.

1)Metnin yazarı siz olsaydınız, metne nasıl bir başlık koyardınız?

.....

2)Metnin kahramanları kimlerdir?

.....

3)Metindeki kahramanlardan hangisinin davranışını beğendin? Neden?

.....

4)Metnin ana fikri nedir

.....

5)Metnin konusu nedir?

.....

## HAYAT BİLGİSİ

◆ Aşağıdaki cümlelerde verilen bilgilerden bazıları doğru bazıları yanlıştır. Yanlış bilgi verilen cümlenin başına "Y.", doğru olan cümlelerin başına "D." harfi koyunuz. (.....) İlköğretim haftası Eylül ayının ilk haftası kutlanır. (.....) Sınıf Başkanını öğretmen seçer. (.....) Arkadaşlarımızla aramızda benzerlikler ve farklılıklar yoktur.

- (.....)Arkadaşlarımızın düşüncelerine saygı duymamalıyız.  
 (.....)Arkadaşlarımızın fiziksel özelliklerini olduğu gibi kabul etmeliyiz.  
 (.....)Barış Manço yazar, Reşat Nuri Güntekin müzisyendir.  
 (.....)Atatürk olumsuz durumlarda umutsuzluğa kapılmadan çalışmış ve başarıya ulaşmıştır.  
 (.....)Sınıfımızın temiz ve düzenli tutulmasından Sağlık ve Temizlik Kulübü Sorumludur.

◆ Aşağıdaki soruları dikkatlice okuyunuz. Doğru cevabı işaretleyiniz.

1) Aşağıdakilerden hangisi olumsuz bir davranıştır?

- a) Arkadaşlarına karşı hoşgörülü olma  
 b) Arkadaşları ile dayanışma içinde olma  
 c) Kendinden küçüklere karşı kırıncı olma

2) Bilinçli bir alışveriş için aşağıdakilerden hangisi doğrudur?

- a) Araştırma yapmadan hemen almalıyız  
 b) Üretim ve son kullanma tarihine bakmalıyız.  
 c) Reklamların etkisinde kalmalıyız.

3) Aşağıdakilerden hangisi bir malın devlet kontrolünden geçtiğinin göstergesidir?

- A) TSE B) STE C) TES

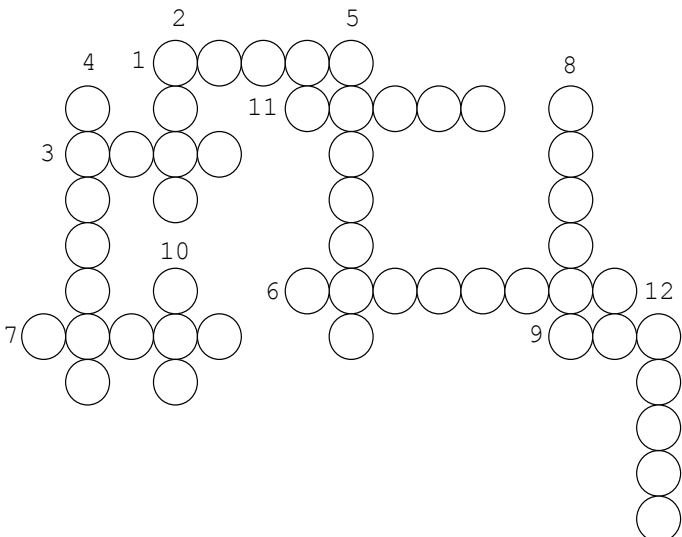
4) Aldığımız mal arızalı çıktığında aşağıdakilerden hangisini yapmalıyız?

- a) Malı, kendimiz tamir etmeliyiz.  
 b) Garanti belgesi ile satıcıya götürmeliyiz.  
 c) Mal arızalı olduğu için atmamız.

5) Aşağıdakilerden hangisi yanlış bilgidir?

- a) Yaptığımız alışverişten belge almalıyız.  
 b) Bilmediğimiz ürünleri satın almamalıyız.  
 c) Aile bütçemizi düşünmeden alışveriş yapmamalıyız.

### KELİME BULMACASI



1. Etle beslenen bir hayvan.  
 2. İnek, öküz, eşek gibi hayvanların barınağı.  
 3. Koyun, keçi gibi hayvanların barınağı.  
 4. Parlak tüylü, ötücü bir kuş.  
 5. Suda yetişen bir bitki.  
 6. Nesli tükenmekte olan bir kuş türü.  
 7. Etinden, yumurtasından yararlandığımız kümes hayvanı.  
 8. Bitkinin yeşil olan kısmı.  
 9. Bitkiyi toprağa bağlayan kısım  
 10. Vücudu tüylerle kaplı, uçan bir hayvan  
 11. Etle ve otlarla beslenen bir hayvan.  
 12. Arının barındığı yer.

### BİLMECELER

1. Sıcak sıcak içerir,  
 Ondan vaz mı geçilir?  
 2. Hem açar, hem kapatır.  
 3. Aç durur, susuz durmaz.  
 4. Horul horul uyur,  
 Mırl mırl konuşur.  
 5. Ne canı var, ne kanı,  
 Beş tanedir parmağı.



6. Trik trak, trik trak  
 Diyor vakit geçiyor bak.  
 7. Kışın yanar, yazın söner.



8. İki kızarmış kira:  
 Yarlıverse biraz,  
 Çekirdekler görünür  
 İnci gibi bembeya:



9. Ne kadar işe yaramayan varsa,  
 orada toplanmıştır.



Noktaları tamamla ve resmi boya



Tümceleleri dikkatlice oku. Doğru olanların başına (D), yanlış olanların başına(Y) harfini yaz.  
( ) Güneşin doğduğu yöne sırtımızı dönersek yüzümüz batıyı gösterir.

( ) İnek ahırda yaşayan bir hayvandır.  
( ) Şarkı söylemek canlıların temel ihtiyaçlarından. (D)  
( ) Okulda sadece okumayı ve yazmayı öğrenebiliriz.  
( ) Bize bozuk bir ürün satan satıcıya bağırarak bizim hakkımızdır.

( ) Cumhuriyet Bayramı milli bir bayramdır.  
( ) Tanımadığımız insanlarla hemen samimi olmalıyız.  
( ) Her insanın yetenekleri farklıdır.  
( ) Dünyamızın şekli düz bir tepsi gibidir.  
( ) Kutup Yıldızı kuzeyi gösterir.

\*Timsahlar dillerini dışarı çıkaramazlar.

## MATEMATİK

Testimizi dikkatlice cevaplayalım.

1-)  $53 < m < 56$ , İfadesinde 'm', yerine gelebilecek sayıların toplamı kaçtır?

A) 218 B) 55 C) 109

2-)  $506 - 199 - 809 - 666 - 99$ , doğal sayıları küçükten büyüğe doğru sıraladığımızda baştan ikinci sayı aşağıda- kilerden hangisi olur?

A) 506 B) 199 C) 666

3-)  $893 < \odot$ , ifadesinde  $\odot$  yerine yazılabilecek en küçük doğal sayı kaçtır?

A) 209 B) 994 C) 894

4-) Mücahit 42 kilogramdır. Abisi ise Mücahit'ten 18 kilogram fazla olduğuna göre ikisi toplam kaç kilogramdır?

A) 102 B) 60 C) 90

5-) Bir çıkarma işleminde çıkan sayı 506, fark 395 olduğuna göre eksilen sayı kaçtır?

A) 111 B) 891 C) 901

6-) Yandaki çıkarma işlemine göre  $A+B+C$  nin değeri kaçtır?

A) 14 B) 6 C) 222

$$\begin{array}{r} -241 \\ A \quad B \quad C \end{array}$$

7-)  $5 - 0 - 3$ , Rakamları ile yazılabilecek üç basamaklı en büyük çift sayı ile üç basamaklı en küçük tek sayının toplamı kaçtır?

A) 503 B) 835 C) 1099

8-)Şevval babasından 35 yaş küçüktür. Şevval 9 yaşında olduğuna göre babası kaç yaşındadır?

A) 26 B) 44 C) 50

9-) 5 düzine kalem, kaç deste kalemdir?

A)3 B)4 C)6

10-)Üç basamaklı en küçük tek sayı hangisidir?

A) 100 B) 101 C)999

## HAYAT BİLGİSİ

Aşağıdaki tümcelelerin noktalı yerlerini kutucuklarda verilen sözcüklerden uygun olanıyla tamamlayınız.

1 -Cumhuriyetin ilânından önce devletimizin adı..... idi.

2-Mustafa Kemal, 19 Mayıs bin dokuz yüz on dokuzda .....gitti.

3-.....sonunda düşmanlar yurdumuzdan temizlendi.

4-Atatürk.....'te doğdu.

5-Atatürk'ün anıt mezarı.....'dadır.


6-Atatürk, 10 Kasım'da .....Dolmabahçe Sarayında öldü.

7-Atatürk.....çok sevdi.

8-İstiklâl Marşı okunurken.....duruşunda beklenir.

9-Bayrağımızın üzerinde Ay ve.....vardır.

10-Bayrağımız.....renktedir.





# MATEMATİK



## Problem Çözmek Büyük Zevk 1

- Problemlerin cevaplarını matematik defterinize yapınız.
- 1 - Ali her sabah 18 sayfalık bir gazetenin tamamını okuyor. Ali bir haftada kaç sayfa okumuş oluyor?
- 2- Kare şeklindeki masamızın bir kenarı 54 cm ise masamızın çevresi kaç cm'dir?
- 3- 362 sayısını en yakın onluğa yuvarladım. Bulduğum sayının 273 eksiği kaçtır?
- 4- Hangi sayının 51 fazlasının ,9' a bölümü, 9 sayısını verir?
- 5- Sınıfta 21 sıra var. Sıraların 13 tanesinde ikişer öğrenci, diğer sıralarda üçer öğrenci oturduğuna göre sınıfta kaç öğrenci vardır?
- 6- Bir yılın 182 günü okula giden bir öğrenci kaç gün tatil yapmaktadır?
- 7- Bir çiftlikte 54 kuzu, 23 tavuk ve 18 inek vardır. Çiftlikteki hayvanların toplam ayak sayısı kaçtır?
- 8- 941 sayısının sayı değerleri toplamı ile basamak değerleri toplamının farkı kaçtır?
- 9- Bir düzine defter aldım. Defterlerin tanesi 3 TL idi. Satıcıya 50 TL verince ne kadar para üstü aldım?
- 10-  $74+42+A=299$  işleminde A harfiyle gösterilen sayı kaçtır?

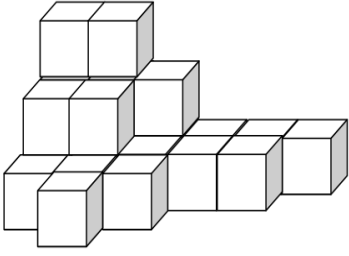


Merhaba, ben Calliou! Tatilde olmak ve dinlenmek ne güzel değil mi?

Bilirsiniz ben resim yapmayı çok severim ama sizler gibi yazmayı bilmiyorum  
Tatille ilgili duygularımızı bir şiirle ve resimle anlatalım mı?

G.....  
Ü.....  
Z.....  
E.....  
L.....  
T.....  
A.....  
T.....  
İ.....  
L.....

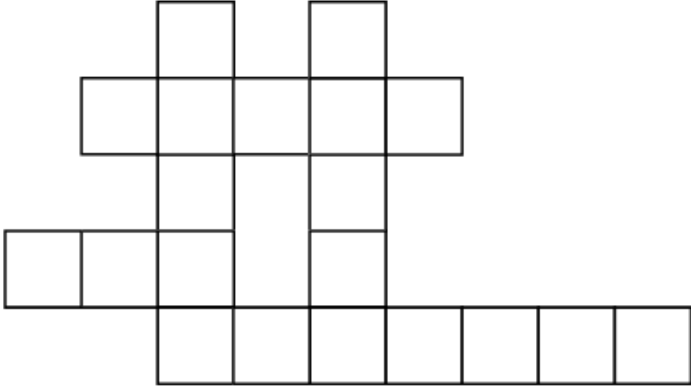
## ZEKA SORULARI



1.)Yanda kaç adet küp var?

2.) Aşağıdaki sözcükleri karelere uygun şekilde yerleştirin.

<yay> <yürek> <akrobat> <dünya> <şeker>



3.) Her çizgi bir harf yerine kullanılmıştır.

- \_\_ \_\_ **M A** (bir meyve)  
**R** \_\_ \_\_ **A** \_\_ **Y A** (bir ülke)  
 \_\_ \_\_ **M** \_\_ \_\_ (yaylı bir çalgı)  
**F** \_\_ \_\_ \_\_ **H** (bir isim)  
 \_\_ **A** \_\_ \_\_ **Ç** (bir sebze)  
**A** \_\_ **T A** \_\_ \_\_ **T** (bir hayvan)  
**G** \_\_ \_\_ \_\_ **Ş** (bir spor dalı)  
**M** \_\_ \_\_ **S** (bir gezegen)

4.) Anagramı verilen kelimeleri bulun.

- E E K L (eşya) → .....  
 E İ K Y G (hayvan) → .....  
 O A T L K R P A (bitki) → .....  
 U İ E L C T N (şehir) → .....  
 N İ T T E R Y A H (isim) → .....

5.) Aşağıda ülke isimleri gizli. Her satırdan 3'er harf silerek bu isimleri bulun.

- S-Ç-İ-A-N-O
- E-R-U-S-K-Y-A-M
- N-İ-J-E-R-T-H-S-Y-A
- U-İ-T-R-F-A-L-Y-A
- M-O-Ğ-O-L-R-İ-S-Ö-T-A-N-H

6.) Aşağıdaki sayı örüntüsünü tamamlayınız.

- 2, 4, 8, 16, 32, ....., ....., 256, .....

7.) Aşağıdaki sözcükleri sözlükteki yerlerine göre numaralandırın.

Viraj V antuz Vakum Virane Varoş  
 (...) (...) (...) (...) (...)

8.) Noktalı yerlere uygun heceler yazarak anlamlı kelimeler oluşturun.

.....PA TOR..... PAR.....SÜ .....BAN.....  
 .....LEP GİY..... KI.....FET .....Kİ.....  
 .....YAK BAR..... TEN.....RE .....VA.....  
 .....FÜM Kİ..... KUR.....LA .....RA.....  
 .....SA Çİ..... FE.....KET .....ŞOF.....

9.) Soru işaretli yerlere birer harf koyarak anlamlı bir sözcük oluşturun. Bu harfleri yukarıdan aşağıya doğru okursanız her sütunda bir meslek adı bulursunuz.

İH?LE  
 KA?UN  
 SA?NA  
 CE?ET  
 AN?NE  
 PA?EN

KE?AN  
 TR?KO  
 Sİ?İT  
 BR?VO  
 PA?Tİ

KA?AN  
 AH?ZE  
 Mİ?Lİ  
 AR?MA  
 SA?IR

KU?ON  
 PR?JE  
 Yİ?AN  
 AK?DE  
 KE?İM

11.) Aşağıdaki dört sözcüğü tabloya öyle yerleştirin ki çölgeli sütunda bir renk adı oluşsun.


ORAN -- KARA -- ASIK -- KIYI

12.) Görmüş olduğunuz tabloda on bir tane hayvan adı gizlidir. İsimler soldan sağa, sağdan sola yukarıdan aşağıya, aşağıdan yukarıya ve her iki çapraz yönde bulunabilir. Bulduklarınızın üzerini karalayın.

L	İ	F	A	R	E	D	S	G	A
P	I	R	A	F	E	K	Y	H	K
A	G	O	T	V	O	E	I	V	E
P	A	H	E	L	M	Ç	L	U	B
A	C	S	D	E	S	İ	A	K	E
Ğ	R	S	L	T	U	N	N	L	T
A	A	V	T	A	C	B	O	P	S
N	G	Z	U	S	N	L	K	R	Ö
H	I	N	U	M	Y	A	M	E	K
C	K	U	R	B	A	Ğ	A	D	D



14. Sümeyye evden atlamak için 2 m 40 cm uzunluğunda ip getirmiştir. Beyza'nın ise 2 m 10 cm uzunluğunda bir ipi vardır. Beyza ile Sümeyye'nin iplerinin uzunluğu toplam kaç cm'dir ?


15. Melike'ye anne ve babası odası için yatak ve çalışma masası almıştır. Aldıkları yatağın fiyatı 350 TL'dir. Çalışma masası ise yataktan 140 TL daha ucuzdur. Melike'nin anne ve babası kaç TL harcamıştır ?


16) 6 m kumaşın 3 m 30 cm'si elbise dikilmek için kullanıldı. Geriye kaç cm kumaş kalmıştır ?


17)  $3m + 2m 40cm + 360cm = ?$


#### Gezi Yeri ile İlgili Çetele Tablosu

GEZİ YERİ	ÖĞRENCİ SAYISI
Anıtkabir	//// //// ////
Çanakkale	//// //// //// ////
İstanbul	//// //// //
Pamukkale	//// ////

18, 19 ve 20. soruları yukarıdaki çetele tablosuna göre cevaplayınız.

18) Gezilere toplam kaç öğrenci gidecektir?


19) Anıtkabir'e gidecek öğrenciler, Pamukkale'ye gidecek öğrencilerden ne kadar fazladır?


20) En çok geziye gidilecek yer ile en az geziye gidilecek yere gidecek öğrencilerin toplamı hangisidir?


## TÜRKÇE

Aşağıda verilen kelimelerin son harfi ile başlayan sözcükler bulup yazınız.

balık	kamyon	nane	etek	kalem
otobüs				
lokum				
güneş				
çorap				
kara				
mısır				
yorgan				

Aşağıda yarım bırakılan masalı hayal gücünüzü kullanarak tamamlayınız.

.....

Bimi ve Dimi adında iki yavru keçi varmış. Anneleri ile birlikte kocaman bir bahçede yaşıyorlarmış. Bimi iyi huylu bir keçiymiş. Dimi ise biraz tuhafmış. Her zaman kendisine söylenenin tersini yapıyormuş. Dimi'nin en çok sevdiği şey meyve ağaçlarının küçük çiçeklerini yemekmiş. Bir gün

.....

.....

.....

.....

.....

.....

.....

.....

.....

.....

.....

.....

.....

.....

.....

.....

.....

.....

.....

.....

.....

.....

.....

.....

.....

**UYARI :** Boş boş oturup hiçbir iş yapmamak , dinlenmek değildir. Asıl dinlenmek bir iş yaparken ona ara verip başka bir işle uğraşmaktır. Deneyin ne demek istediğimi daha iyi anlarsınız. Bu sebeple tatilde boş boş oturup ya da gününüzü sadece televizyon seyrederek geçirmeyin. Bu tatili fırsat bilerek bol bol kitap okuyun , belgesel -yarışma türü programlar izleyin. Eksikleriniz varsa onları tamamlayın. Tabii kendinizi fazlada sıkmadan. Ne de olsa tatil. 2. dönemde inşallah hepinizi bomba gibi bekliyorum.

Güzel bir söz : "İlim hiçbir servet ile satın alınmaz.

Onun içindir ki, bir cahil ne derecede zengin olursa olsun, en fakir bir alim ile mukayese olunmaz.