


4. Sınıf EV ÖDEVİM

Üçgen, Kare ve Dikdörtgen

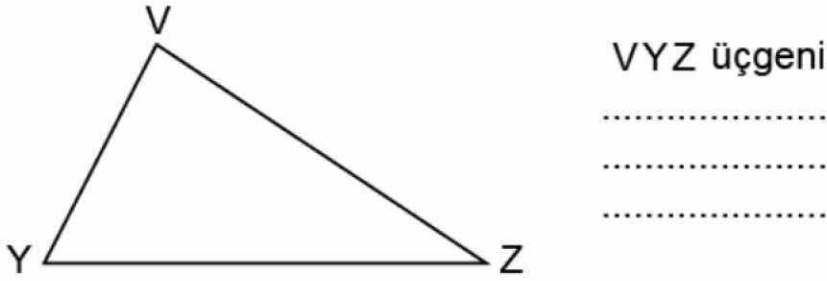
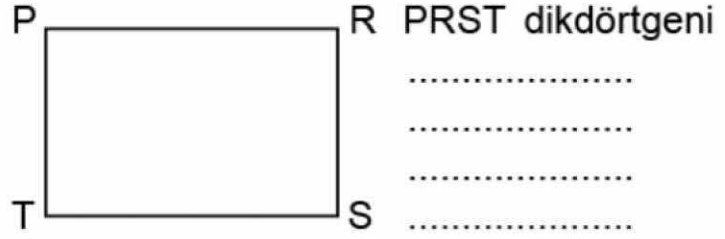
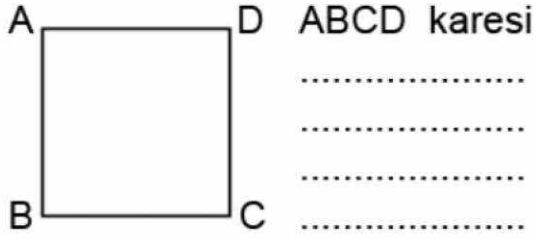
Adım Soyadım :

Tarih : / /

- 5** Aşağıdaki noktalı kâğıda üçer adet üçgen, kare ve dikdörtgen çizin. Çizdiğiniz şekilleri isimlendiriniz.



- 6** Aşağıda verilen şekilleri farklı biçimlerde isimlendiriniz.



- 7** Aşağıdaki tabloyu örnekteki gibi uygun kutucuğa “√” işareti koyarak doldurunuz.

Tablo: Üçgen, Dikdörtgen ve Karenin Özellikleri

Özellikler Şekiller	Dört Kenarlı	Üç Kenarlı	Üç köşeli	Dört köşeli	Dört açılı
					
	4				
	4				

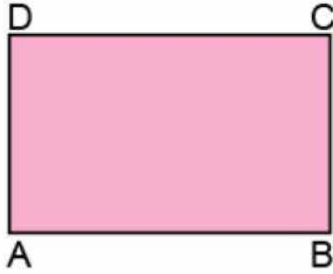
4. Sınıf EV ÖDEVİM

Üçgen, Kare ve Dikdörtgen

Adım Soyadım :


Tarih : / /

8 Verilen dikdörtgen, kare ve üçgenin kenarlarını isimlendirerek noktalı yerlere yazınız.



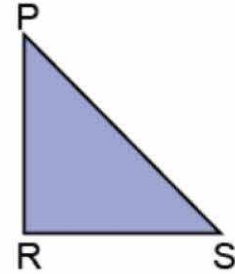
[AB]

kenarı



[EH]

kenarı



[SR]

kenarı

..... kenarı kenarı kenarı
..... kenarı kenarı kenarı
..... kenarı kenarı kenarı
..... kenarı kenarı kenarı
..... kenarı kenarı kenarı
..... kenarı kenarı kenarı
..... kenarı kenarı

9 Her bir seçenekte verilen şekille ilgili yanlış isimlendirmeyi işaretleyiniz.



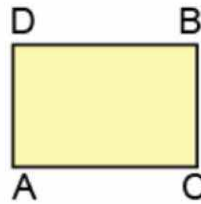
PSAE dikdörtgeni



PEAS dikdörtgeni



ASEP dikdörtgeni



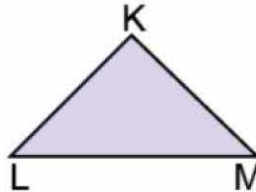
ABCD karesi



ACBD karesi



DACB karesi



MLK üçgeni



KLN üçgeni



LKM üçgeni

