

4. Sınıf EV ÖDEVİM

Üçgen, Kare ve Dikdörtgen

Adım Soyadım :

Tarih : / /

1 Açıölçer, cetveli ve gönyeyi kullanarak aşağıda belirtilen şekilleri çiziniz.

- a) Bir kenarı 5 cm olan bir kare
- b) Dik kenarları 3 cm ve 5 cm olan dik bir üçgen
- c) Kısa kenarı 4 cm, uzun kenarı 6 cm olan bir dikdörtgen
- d) Çevre uzunluğu 16 cm olan bir kare
- e) Kısa kenarı 2 cm, uzun kenarı ise kısa kenarından 2 cm daha uzun olan bir dikdörtgen



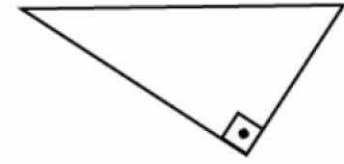
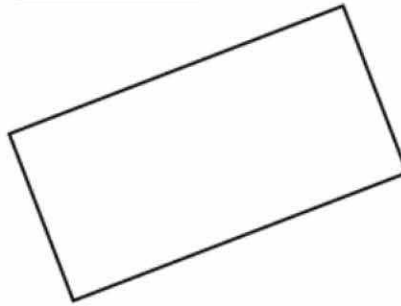

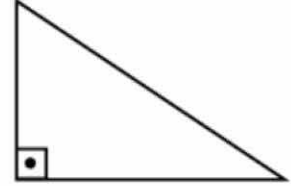

4. Sınıf
EV ÖDEVİM

Üçgen, Kare ve Dikdörtgen

Adım Soyadım :

Tarih : / /

- 2 Aşağıda çizilmiş olan dik üçgen, dikdörtgen ve karenin kenar uzunluklarını cetvelinizle ölçerek üzerlerine yazınız.



- 3 Cetvel, gönye ve açıölçerinizi kullanarak bir kenarı 5 cm olan bir kareyi aşağıdaki alana çiziniz.



- 4 Cetvel, gönye ve açıölçerinizi kullanarak kısa kenarı 6 cm, uzun kenarı ise 9 cm olan bir dikdörtgen çiziniz.

