


4. Sınıf
EV ÖDEVİM

Köşegenler


Adım Soyadım :

Tarih : / /

- 1 Aşağıdaki nesnelerin köşegenlerini çizerek gösteriniz. Köşegeni nasıl belirlediğinizi açıklayınız.



- 2 Televizyonların kaç ekran olduğunun nasıl belirlendiğini araştırınız. Edindiğiniz bilgiye göre evinizdeki televizyonun kaç ekran olduğunu belirleyiniz.



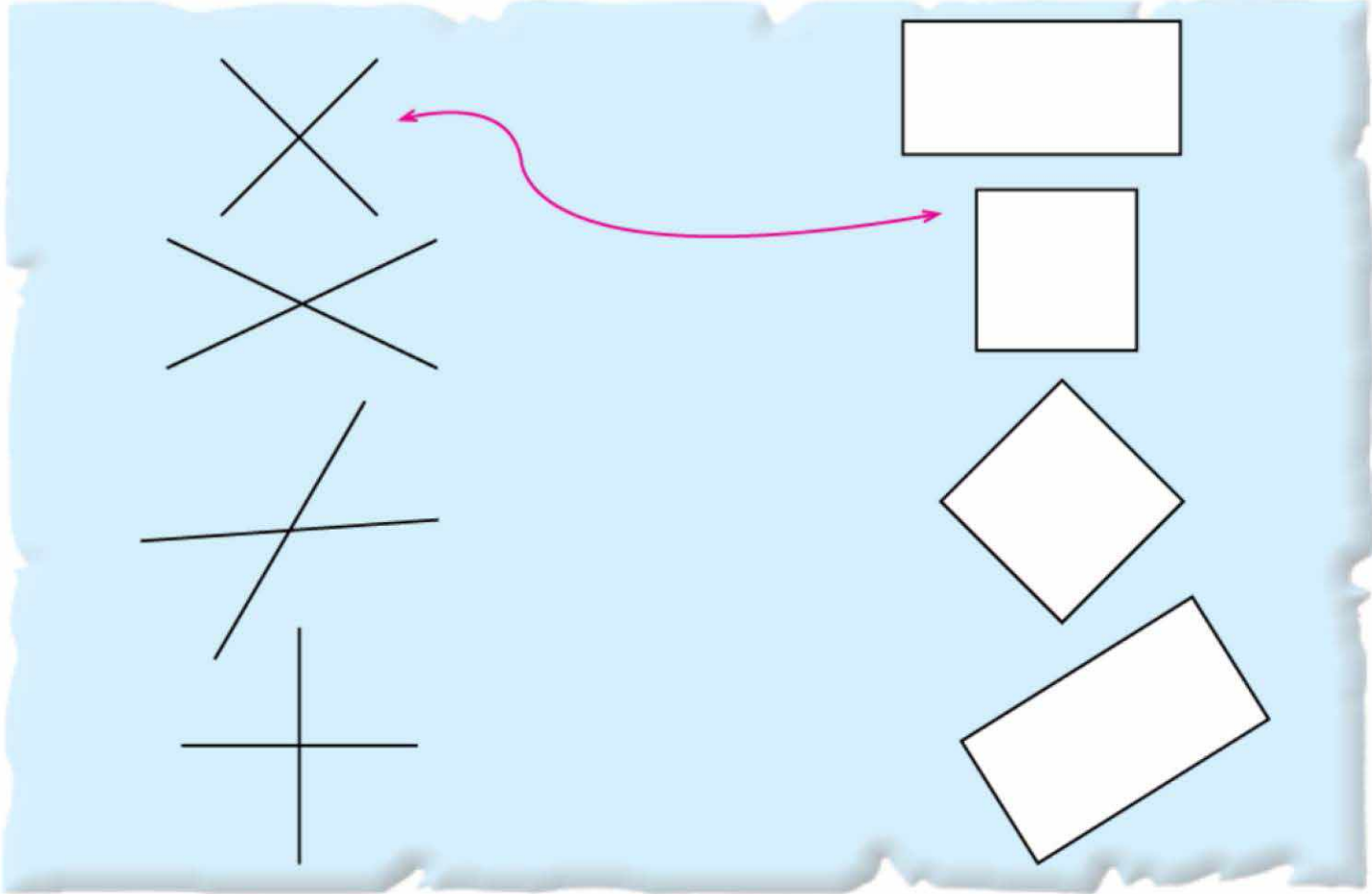
4. Sınıf
EV ÖDEVİM

Köşegenler

Adım Soyadım :

Tarih : / /

- 3 Aşağıdaki örnekteki gibi köşegenlerin hangi geometrik şekle ait olduğunu belirleyerek şekillerle köşegenlerini eşleştiriniz.



- 4 Noktalı kâğıda birbirinden farklı üçer adet kare ve dikdörtgen çizin. Çizdiğiniz kare ve dikdörtgenlerin köşegenlerini renkli kalemle belirleyiniz.

