

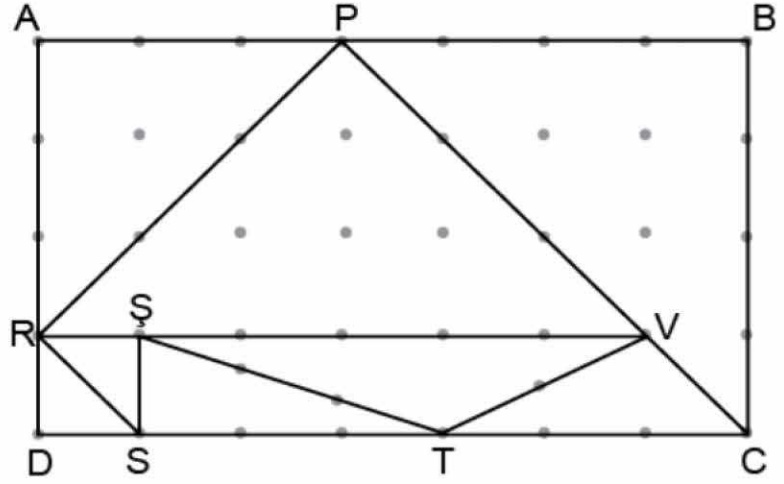
4. Sınıf EV ÖDEVİM

Kenarlarına Göre Üçgenler

Adım Soyadım :

Tarih : / /

- 1 Yandaki ABCD dikdörtgenin içine çeşitli üçgenler çizilmiştir. Bu üçgenleri kenar özelliklerine göre sınıflandırarak aşağıdaki tabloyu örnekteki gibi doldurunuz.

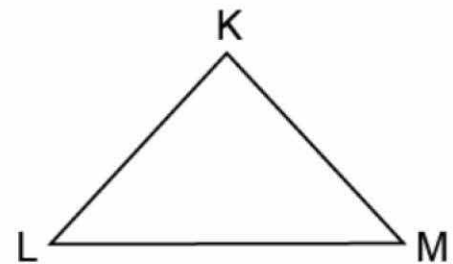
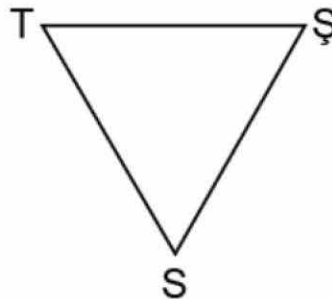
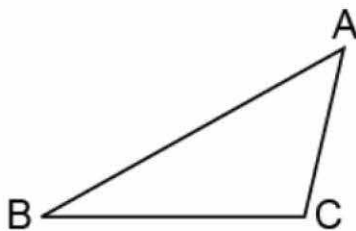


Üçgenin Adı	Kenarlarına Göre Çeşidi
$\triangle APR$	İkizkenar

- 2 Noktalı kâğıda birbirinden farklı ikişer tane ikizkenar, çeşitkenar ve eşkenar üçgen çiziniz.



- 3 Aşağıda verilen üçgenlerin kenar uzunluklarını cetvelinizle ölçünüz. Ölçümünüze göre üçgenlerin çeşitlerini belirleyiniz.



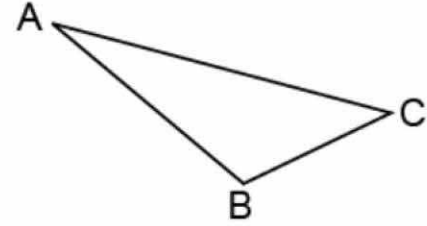
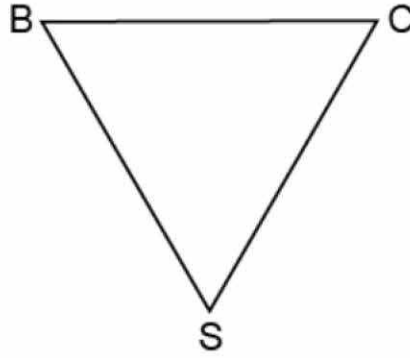
4. Sınıf EV ÖDEVİM

Kenarlarına Göre Üçgenler

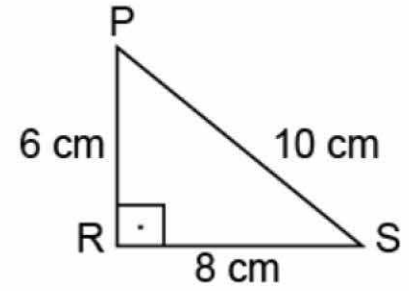
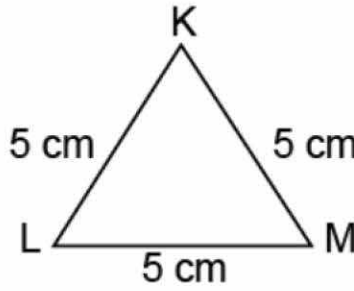
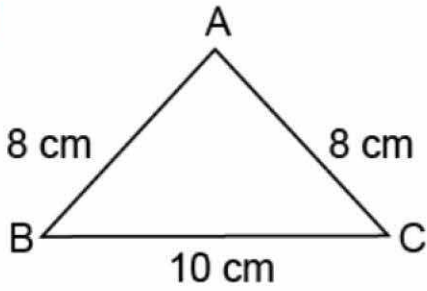
Adım Soyadım :

Tarih : / /

- 4 Aşağıda verilen üçgenlerin kenar uzunluklarını cetvelinizle belirleyiniz. Ölçümünüzden yararlanarak üçgenleri kenarlarına göre sınıflandırınız. Sınıflandırmanıza göre ikizkenar üçgeni yeşile, eşkenar üçgeni maviye ve çeşitkenar üçgeni kırmızıya boyayınız.



5



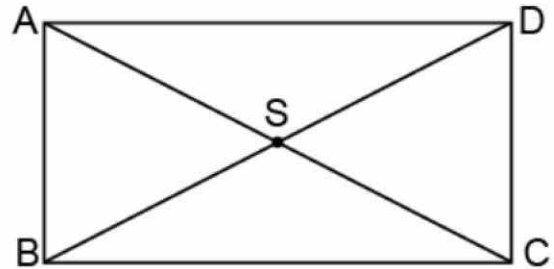
Yukarıda verilen üçgenlerin kenar uzunluklarına göre özelliklerini belirtiniz.

ABC üçgeni,

KLM üçgeni,

PRS üçgeni,

- 6 Yanda ABCD dikdörtgeni ve dikdörtgenin köşegenleri çizilmiştir. Köşegenlerin çizilmesiyle oluşan üçgenleri kenarlarına göre sınıflandırınız.



.....
.....
.....