


Adım Soyadım : .....

Tarih : ..... / ..... / .....

**1** Aşağıdaki ifadeler doğru ise başına “D”, yanlış ise “Y” yazınız.

- ( ) Açının iki köşesi vardır.
- ( ) Bir açının iki kenarı vardır.
- ( ) Açı küçük harf ile isimlendirilir.
- ( ) Açının kenarları, açının köşesinde birleşen iki ışındır.
- ( ) Açının kenarlarının kesiştiği nokta, açının köşesidir.
- ( ) Açının köşesindeki ışınlar, açının kenarlarıdır.
- ( ) Açı, “  $\Delta$  ” sembolü ile gösterilir.

**2** Aşağıdaki izometrik kâğıda farklı açılar çizin. Çizdiğiniz açıların kenarlarını mavi renkle, köşesini kırmızı renkle belirginleştiriniz.**3** Açının kullanıldığı meslekleri araştırınız. Elde ettiğiniz bilgileri arkadaşlarınızla paylaşınız. Açıyı kendi cümlelerinizle tanımlayınız.

Adım Soyadım : .....

Tarih : ..... / ..... / .....

- 4 Yanda verilen koşucunun vücudundaki açı modellerini gösteriniz. Gösterdiğiniz açıların kenarlarını ve köşelerini renkli kalemle belirginleştiriniz.



- 5 Yanda verilen AB ışınına bir ışın daha ekleyerek açı oluşturunuz. Oluşturduğunuz açının kenarlarını yeşille, köşesini ise maviyle belirginleştiriniz.



6



Yukarıdaki resimde bayrağa koşan sporcuların, bayrağa ulaşmaya kadar izleyeceği yolu çizerek açı oluşturunuz. Oluşturduğunuz açının köşesini ve kenarlarını gösteriniz.

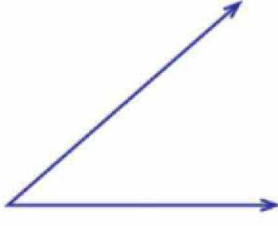
- 7 Yanda verilen resimde 5 adet açı belirleyiniz. Belirlediğiniz açıların kenarlarını kırmızıyla köşelerini maviyle belirginleştiriniz.



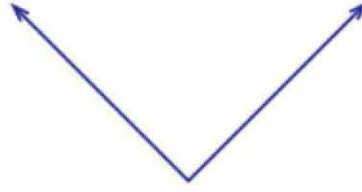
Adım Soyadım : .....

Tarih : ..... / ..... / .....

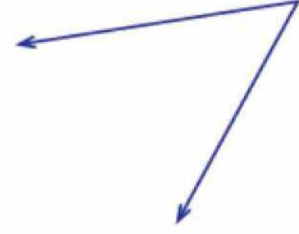
8 Aşağıda verilen açıları adlandırınız.



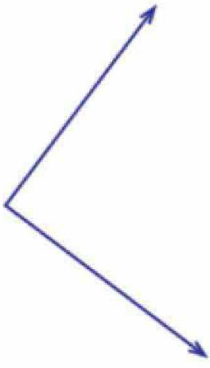
.....




.....



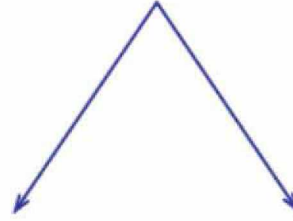
.....



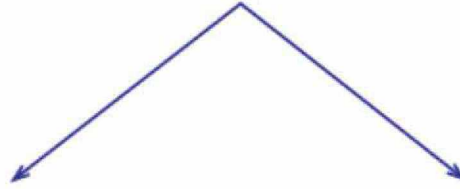
.....




.....



.....



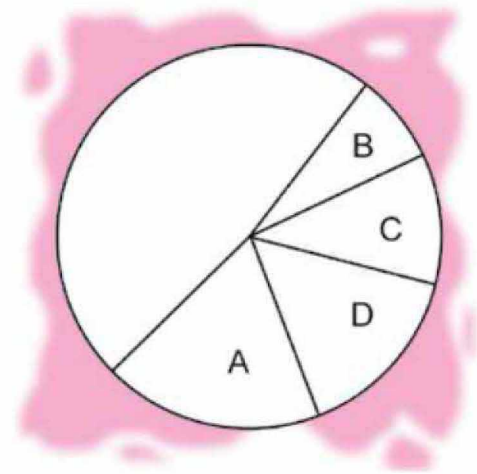
.....



.....

9 Yanda verilen pastadan dört adet pasta dilimi kesilerek pastadan ayrılmıştır. Buna göre, aşağıdaki soruları cevaplayınız.

- Hangi pasta dilimi alınınca, pastada en büyük açı oluşur? .....
- Hangi pasta dilimi alınınca, pastada en küçük açı oluşur? .....
- C dilimli pastadaki açı, hangi dilimli pastadaki açıdan büyüktür? .....
- Pasta dilimlerindeki açıları küçükten büyüğe doğru sıralayınız.



..... &lt; ..... &lt; ..... &lt; .....

10 Açılar da uzunluk ve sıvı ölçüleri gibi ölçülebilir mi? Açıklayınız.

.....

.....

.....